

ГАЗАРЗҮЙ

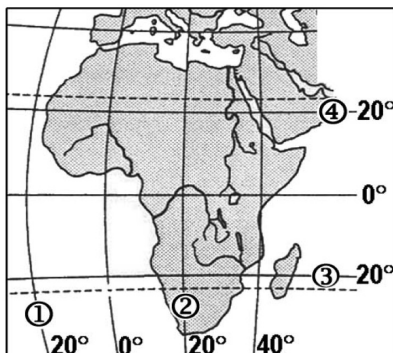
2010

ХУВИЛБАР А

НЭГДҮГЭЭР ХЭСЭГ

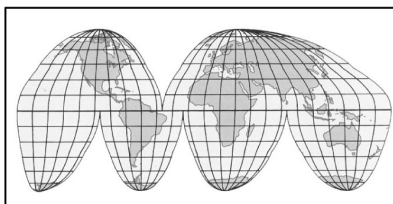
1. Атлантын далайн ай савд багтах голыг нэрлэ. (1 оноо)
 А. Меконг В. Миссисипи С. Шар мөрөн
 D. Колорадо E. Амур мөрөн
2. Африк тивийн зураг дээр х.ө. 20-ийг тэмдэглэсэн тоо аль нь вэ? (1 оноо)

- A. 1
 B. 2
 C. 3
 D. 4
 E. Аль нь ч биш



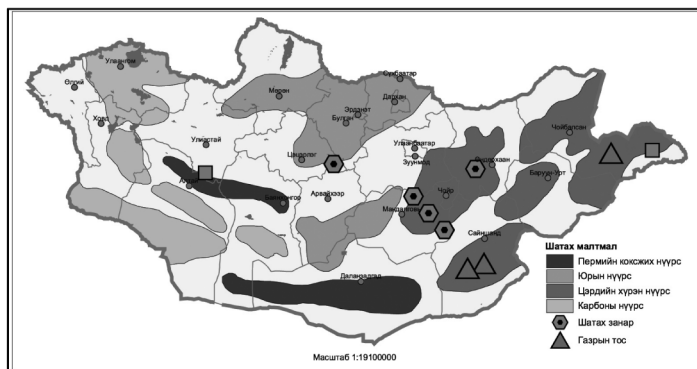
3. Дараах нууруудаас аль нь хамгийн гүн вэ? (1 оноо)
 А. Титикака В. Танганьика С. Каспий
 D. Гурон E. Виннипег
4. Атлантын далайн эргийн дагуу орших цөлийн нэрийг тэмдэглэ. (1 оноо)
 А. Руб-Эль-Хали В. Каракум С. Атакам
 D. Такла-Макан E. Намиб
5. Дараах уулсын аль нь Алтайн нурууны салбар вэ? (1 оноо)
 А. Богд уул В. Эдрэнгийн нуруу С. Тарвагатайн нуруу
 D. Хөх Сэрхийн нуруу E. Булнайн нуруу
6. Дараах зургийн тусгагийг нэрлэнэ үү. (1 оноо)

- A. Робинсоны тусгаг
 B. Меркаторын тусгаг
 C. Туйлын азимутын тусгаг
 D. Конусын тусгаг
 E. Гүүдын тусгаг



7. Монгол орны шатах ашигт малтмалын зурагт нүүрсний сав газрууд ба ашигт малтмалыг ямар аргаар дүрслэн үзүүлсэн байна вэ? (1 оноо)

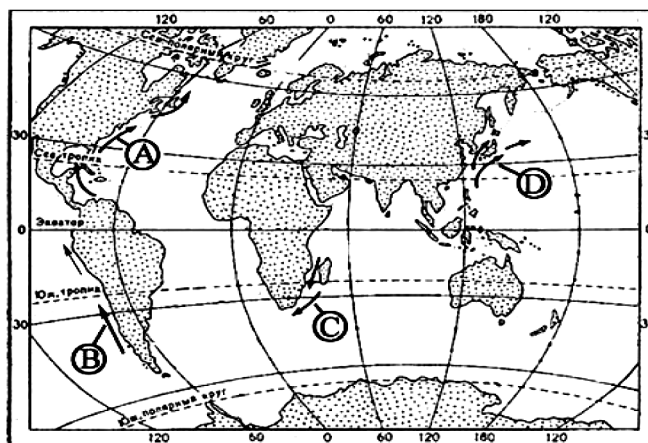
- A. Картограммын арга
 B. Өнгөт дэвсгэрийн арга
 C. Хөдөлгөөнт шугамын арга
 D. Тэмдгийн ба ареалын арга
 E. Картодиаграммын арга



8. Дараах оргилуудын аль нь 4000 метрээс дээш өндөрт орших вэ?
 А. Асралтхайрхан В. Мөнххайрхан С. Атас богд
 D. Бурханбуудай E. Мөнхсарьдаг

9. Дээд хил орчимдоо агаарын температур -90°C хүрдэг хийн мандлын давхаргыг нэрлэнэ үү. (1 оноо)
 А. Экзосфер В. Тропосфер С. Термосфер
 D. Стратосфер E. Мезосфер
10. Манай орны ямар хэсэгт тэмээний аж ахуй илүү зонхилсон бэ?
 А. Говийн бүсэд В. Хээрийн бүсэд С. Ойт хээрийн бүсэд
 D. Орхон Сэлэнгийн сав газраар E. Дорнодын талархаг нутагт
11. Карст ямар чулуулаг бүхий газраар үүсэх вэ? (1 оноо)
 А. Хүрмэн чулуу В. Гөлтгөнө С. Хүлэр
 D. Боржин E. Төмрийн хүдэр
12. Геологийн цаг тооллын нэгж болох триас, юра, цэрдийн галавууд аль эринд хамаарагдах вэ? (1 оноо)
 А. Протерозойн В. Палезойн С. Мезозойн
 D. Кайнозойн E. Архейн
13. Төрөл бүрийн шилмүүст модод элбэг тархсан бүс аль нь вэ? (1 оноо)
 А. Холимог ба өргөн навчит ойн бүс В. Экваторын ойн бүс
 С. Тайгын бүс D. Саванны бүс
 E. Хээрийн бүс
14. Дэлхийн гурван гол шашны нэг нь лал юм. Энэ шашин дэлхийн аль бүс нутагт их өргөн тархсан бэ? (1 оноо)
 А. Зүүн Өмнөд ба Дундад Ази В. Хойд Америк
 С. Өмнөд Африк D. Баруун Европ
 E. Австрали
15. Далайн урсгалын чиглэлийг газрын зураг дээр хөдөлгөөнт шугамын аргаар үзүүлдэг. Перугийн хүйтэн урсгалыг ямар үсгээр тэмдэглэсэн байна вэ? (1 оноо)

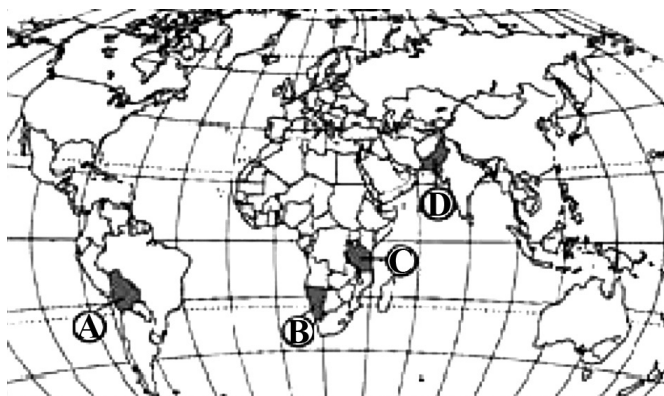
- А. А үсгээр
 В. В үсгээр
 С. D үсгээр
 D. C үсгээр
 E. B ба C үсгээр



16. Чулуулгийг гарал үүслээр нь тунамал, хувирмал, магмын хэмээн ангилдаг. Хамгийн элбэг орших хувирмал чулуу аль нь вэ? (1 оноо)
 А. Элсэн чулуу В. Гантиг С. Пемза
 D. Билүү E. Гөлтгөнө
17. Увс, Хөвсгөл, Хяргас нуурууд ямар гарал үүсэлтэй вэ? (1 оноо)
 А. Мөстлөгийн В. Тектоник С. Галт уулын
 D. Элэгдлийн E. Карстын
18. Үдийн нар хэзээ ч эгц дээр оршдоггүй газар аль нь вэ? (1 оноо)
 А. Туйлын цагираг дээр В. Матрын зам С. Мэлхийн зам
 D. Экватор E. X.ө 10°
19. Дэлхий дээр хүн ам ихээр бөөгнөрсөн 3 районд аль нь орох вэ? (2 оноо)
 А. АНУ-ын зүүн хойд хэсэг В. Австралийн баруун эрэг орчим
 С. Африк D. Латин америк
 E. Төв Ази
20. Дэлхийн дулааны хүйтэн бүслүүр туйл талаасаа ямар изотермээр зааглагдах вэ? (2 оноо)
 А. Жилийн -5°C -ийн В. Жилийн 0°C -ийн
 С. Хамгийн дулаан сарын 0°C -ийн D. Хамгийн хүйтэн сарын 0°C -ийн
 E. Хамгийн хүйтэн -10°C -ийн

21. Дараах зураг дээр А, В үсгээр тэмдэглэсэн хоёр улс аль нь вэ? (2 оноо)

- А. Аргентин, Габон
- В. Колумб, Конго
- С. Болив, Намиб
- Д. Аргентин, Танзани
- Е. Бразил, ӨАБНУ



22. Ямар үед ууршилт бага явагдах вэ? (2 оноо)

- А. Харьцангуй чийг бага үед
- В. Үнэмлэхүй чийг бага үед
- С. Агаарын температур шүүдэр цэгтээ хүрсэн үед
- Д. Салхи багатай
- Е. Агаар их халуун үед

23. Зуны цагт заримдаа хур тунадас орохгүй олон хоногоор халдаг. Ийм цаг агаар үүсэх үндсэн шалтгаан нь юу вэ? (2 оноо)

- А. Агаарын өгсөх хөдөлгөөн эрчимтэй болсон
- В. Үүлгүй цэлмэг байсан
- С. Агаарын даралт ихдэн антициклон үүссэн
- Д. Агаарын даралт багасан циклон үүссэн
- Е. Халуун орны даралт багатай агаар түрэн орж ирсэн

24. “Хүний хөгжлийн индекс” (ХХИ) нь улс орны хөгжлийн түвшинг илэрхийлдэг үзүүлэлт юм. Дараах улсуудаас ХХИ-ээр дэлхийд эхний 10-д багтах 3 орон аль нь вэ? (2 оноо)

- А. Гана, Мексик, Казахстан
- В. Энэтхэг, Саудын Араб, Малайз
- С. Хятад, Бразил, Вьетнам
- Д. Аргентин, Индонез, Колумб
- Е. Исланд, Канад, Австрали

25. Дэлхийн өмнөд хагасад ямар хугацаанд шөнө нь өдрөөсөө урт байх вэ? (2 оноо)

- А. III.22-наас IX.23 -ны хооронд
- В. VI.22-наас IX.23-ны хооронд
- С. IX.23-наас III.21-ны хооронд
- Д. XII.22-наас IX.23-ны хооронд
- Е. III.22-ноос VI.22 хүртэл

26. Хэрлэн голын ихэнх хэсэг нь ямар хоёр аймгийн нутгаар дайрч урсдаг вэ? (2 оноо)

- А. Төв, Булган
- В. Өвөрхангай, Дундговь
- С. Хэнтий, Дорнод
- Д. Сүхбаатар, Хэнтий
- Е. Увс, Ховд

27. Ямар улсын нутагт газар хөдлөлт үе үе тохиолдох магадлал ихтэй вэ? (2 оноо)

- А. Перу
- В. Австрали
- С. Швед
- Д. Зайр
- Е. Финлянд

28. Атлантын далайн ёроолын уул нуруудын үүсэл юутай холбоотой үүсэх вэ? (2 оноо)

- А. Тектоникийн хавтангуудын түлхэлцэх хөдөлгөөн
- В. Магмын бялхалт
- С. Холдон салж буй тектоникийн хавтангийн хил зааг
- Д. Атриат хөдөлгөөнөөр бий болсон антиклиналь
- Е. Далайн ёроолын хэлбэлзэх хөдөлгөөн

29. Байрзүйн зургийн хуудас нь уртраг ба өргөргийн шугамаар зааглагдана. 1:1000 000 масштабтай байрзүйн зургийн нэг хуудсанд уртрагийн дагуу хэдэн градусын газар багтах вэ? (2 оноо)

- А. 6°
- В. 4°
- С. 1°
- Д. 10°
- Е. 3°

30. Дараах гол мөрд ямар нуурт цутгадаг вэ? Зөв харгалзуулан сонгоно уу. (2 оноо)

- | | | |
|-----------------------|-----------------------|-----------------------|
| 1. Ховд | а. Байгаль | |
| 2. Завхан | б. Далай нуур | |
| 3. Тэс | с. Хар -Ус | |
| 4. Сэлэнгэ | д. Хяргас | |
| 5. Хэрлэн | е. Увс | |
| А. 1с, 2д, 3е, 4а, 5б | В. 1а, 2б, 3д, 4с, 5е | С. 1е, 2а, 3д, 4б, 5б |
| Д. 1е, 2с, 3а, 4б, 5д | Е. 1е, 2а, 3б, 4д, 5д | |

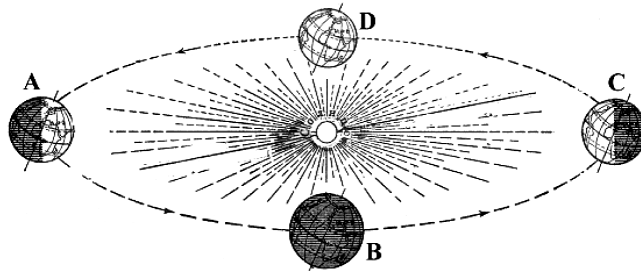
31. Агаарын температур өөрчлөгдөхөд түүний үнэмлэхүй чийгийн багтаамж хэрхэн өөрчлөгдөх вэ? (2 оноо)
 А. Температур өсөхөд багасна
 В. Температур буурахад нэмэгдэнэ
 С. Температур нэмэгдэхэд адилхан нэмэгдэнэ
 D. Температурын өөрчлөлтөөс үл хамаарна
 E. Энэ хариулт бүгд зөв

32. Дэлхийн дулааралтад нөлөө үзүүлж буй “Хүлэмжийн хий”-д дараах хийнүүдийн аль нь хамаарагдах вэ? (2 оноо)
 А. Устөрөгч ба гелий
 В. Нүүрсхүчлийн хий ба намгийн хий
 С. Амиак ба озон
 D. Азот ба аргон
 E. Хүчилтөрөгч

33. Усан замын тээврийн хамгийн гол давуу тал юу вэ?
 А. Зорчигч эргэлтэд эзлэх хувь хамгийн өндөр
 В. Алс хол зайд ачаа тээвэрлэхэд хямд
 С. Улирал, цаг агаараас хамаарахгүй
 D. Зорчигчдыг хурдан хугацаанд шуурхай хүргэдэг
 E. Богино зайд хурдан хугацаанд тээвэр хийхэд ашигтай

34. Дэлхий “А” байрлалд орших үед дор дурдсан өргөргүүдийн алинд нь үд дундын нарны өндөр хамгийн бага байх вэ? (2 оноо)

- А. Х.Ө 30°
 В. Х.Ө. 10°
 С. Экватор
 D. Ө.Ө. 10°
 E. Ө.Ө. 30°

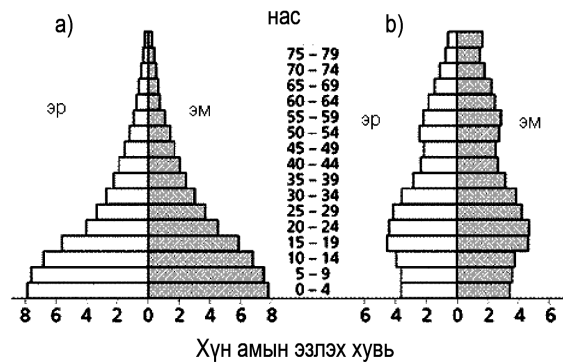


35. Олон улсын гадаад худалдаанд чухал байр эзэлдэг дулаан бүсийн таримал ургамал (2 оноо)
 А. Цагаан будаа, овъёос
 В. Арвай, наранцэцэг
 С. Улаан буудай, сахарын манжин
 D. Чихрийн манжин, хөх тариа
 E. Цай, кофе

36. Дараах орнуудын алинд нь хүн амын дундаж наслалт өндөр байх вэ? (2 оноо)
 А. Камбож
 В. Судан
 С. Изриал
 D. Сьерра-Леоне
 E. Индонез

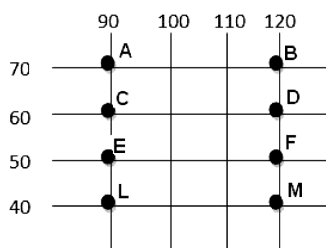
37. Хүн амын нас хүйсний суваргын хэлбэр нь тухайн улс орны хөгжлийг илэрхийлдэг нэг үзүүлэлт болдог. (а) ба (в) суварга тус бүр ямар улс орныг төлөөлж болох вэ? Зөв хариултыг сонгоно уу. (2 оноо)

- А. А –АНУ, в-Африкийн орнууд
 В. А-Хойд Америкийн орнууд, В-Зүүн өмнөд Азийн орнууд
 С. А-Баруун Африк, В-Баруун Европ
 D. А- Хөгжингүй орнууд, В- Хөгжиж буй орнууд
 E. А-Хойд Европ, В-Өмнөд Ази

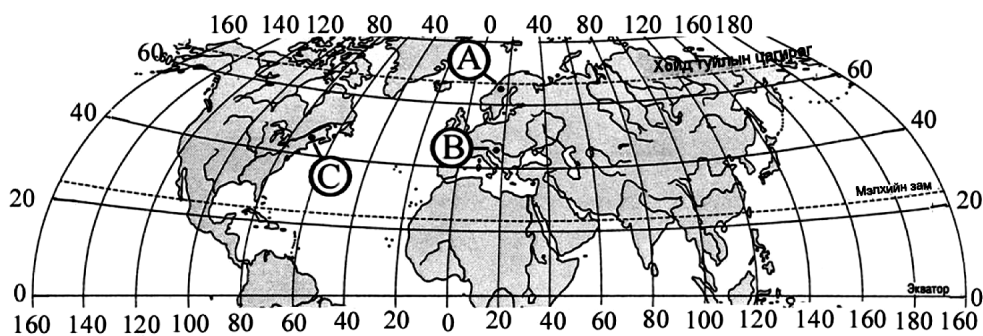


38. Аливаа цэгийн газарзүйн солбицлыг орших уртраг ба өргөргөөр нь тодорхойлдог. Дараах солбицолд орших цэгүүдийн хооронд өргөргийн дагуу зорчвол хамгийн ойр зайд орших цэгүүдийг олно уу. (2 оноо)

- А. АВ
 В. CD
 С. EF
 D. LM
 E. BD

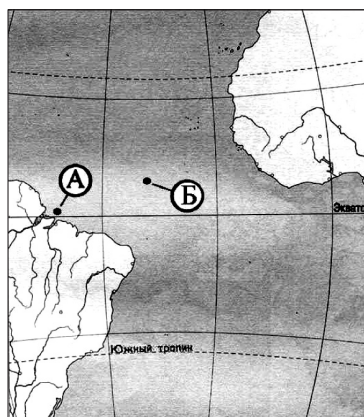


39. Дэлхийн хойд хагаст орших А, В, С үсгээр тэмдэглэгдсэн цэгүүдийн алинд нь 12 дугаар сарын 20-нд нар хамгийн эрт (Гринвичийн цагаар) мандах вэ? (3 оноо)



- A. А цэг дээр
D. А ба В цэг дээр зэрэг
- B. В цэг дээр
E. С ба В цэг дээр зэрэг мандана
- C. С цэг дээр
40. Байгалийн цогцолборт газрууд аль нь вэ? (3 оноо)
- A. Хустайн нуруу, Цамбагарав уул, Улаантайга
B. Хүйсийн найман нуур, Уран уул, Загийн усны хоолой
C. Увс нуурын ай сав, Шилийн Богд, Хар ямаат уул
D. Бурхан буудай уул, Эргэлийн зоо, Булган гол
E. Ээж хайрхан уул, Нөмрөг, Ханхэнтий
41. Атлантын далайн гадаргын усны дундаж давсжилт нь бусад далайтай харьцуулахад илүү их байдаг. Гэвч экваторын өргөрөгт орших А цэг дээр давсжилт нь Б цэгийнхээс бага байдгийн гол шалтгаан юу вэ? (3 оноо)

- A. Тунадас бага унадаг
B. Далайн дулаан урсгал
C. Агаарын даралт их
D. Том гол цутгадаг
E. Ууршилт их явагддаг



42. Манай орны чулуун нүүрсний орд газруудыг нэрлэнэ үү. (3 оноо)
- A. Шивээ-Овоо, Адуун чулуун, Хар Тарвагатай
B. Хажуу-Улаан, Бор-Өндөр, Хар-Айраг
C. Асгат, Хараат
D. Ерөө, Түнхэл, Хялганат
E. Сүхбаатар, Эрдэнэт
43. Дэлхий нарнаас хэр зэрэг хол орших вэ? (3 оноо)
- A. Гэрэл 8 минут туулах зайд
B. Гэрэл 1 цаг туулах зайд
C. Сар дэлхийн хоорондох зайнаас 20 дахин хол
D. Буд гаригийн алслагдсан зайнаас 2 дахин хол
E. 1.5 одон орны нэгж
44. Газрын тос экспортлогч орнуудын холбоо буюу ОПЕК-ийн гишүүнд ордог 3 орон аль нь вэ? (3 оноо)
- A. Вьетнам, Грек, ОХУ
B. Нигери, Ливи, Саудын Араб
C. Австрали, АНУ, Англи
D. Бразил, Энэтхэг, БНХАУ
E. ОХУ, БНХАУ, АНУ
45. Байгалийн нөөц тус бүрийг ямар төрөлд хамаарагдахыг олж зөв харгалзуулан сонгоно уу. (4 оноо)
- | | |
|-----------------------|-------------------------------------|
| <u>Байгалийн нөөц</u> | <u>Байгалийн нөөцийн төрөл</u> |
| A. Төмрийн хүдэр | 1. Шавхагддаг, дахин сэргээгддэг |
| B. Ойн нөөц | 2. Шавхагддаг, дахин сэргээгддэггүй |
| C. Хөрс | 3. Шавхагддаггүй |
| D. Нарны эрчим хүч | |
| E. Салхины эрчим хүч | |

A. A1, B2, C2, D1, E1,
D. A2, B1, C1, D3, E3,

B. A3, B3, C3, D1, E2,
E. A1, B3, C2, D1, E1,

C. A3, B3, C3, D2, E2,

46. Улсын нэр ба нийслэл хот, орших бүс нутгийг зөв харгалзуулан сонго. (4 оноо)

Улсын нэр	Нийслэл хотын нэр	Орших бүс нутаг
1. Энэтхэг	А. Буэнос-Айрес	а. Хойд Европ
2. Казахстан	Б. Рабат	б. Өмнөд Ази
3. Норвег	В. Дели	в. Латин Америк
4. Марокко	Г. Астана	г. Төв Ази
5. Аргентин	Д. Осло	д. Хойд Африк

A. 1-Б-в, 2-Г-г, 3-А-а, 4-Б-д, 5-Д-в;
C. 1-Г-б, 2-В-г, 3-Г-а, 4-Д-д, 5-А-в
E. 1-В-б, 2-Г-г, 3-Д-а, 4-Б-д, 5-А-в

B. 1-Д-б, 2-А-д, 3-Г-г, 4-Б-в, 5-В-д
D. 1-Д-д, 2-Г-г, 3-А-а, 4-В-д, 5-Д-в

ХОЁРДУГААР ХЭСЭГ

Анхааруулга

Хоёрдугаар хэсгийн бодлогын хариуг хариултын хуудасны хоёрдугаар хэсэгт доорх хэлбэрээр бөглөхийг анхаарна уу. Хэрэв бодлогын хариу 68 гарсан гэж үзвэл а-6, в-8 гэж бөглөнө.

2.1. 1: 25 000 масштабтай зураг дээр 300 м х 650 м хэмжээтэй биеийн тамирын талбай ямар хэмжээтэй дүрслэгдэх вэ? (4 оноо)

A. 312 см² B. 38 см² C. 3,12 мм² D. 3.12 см² E. 0,31 см²

2.2. А хот з.у 15⁰-д, Б хот б.у 25⁰-д, хоёулаа экватор дээр оршдог бол хоёр хотын хоорондох зайг ол. (4 оноо)

A. 2000 км
B. 1100 орчим км
C. Зургийн масштаб өгөгдөөгүй тул бодож гаргах боломжгүй
D. 4450 орчим км
E. Зайг олохын тулд зураг дээр хэмжилт хийх шаардлагатай

2.3. Улаанбаатар хотод үдийн нарны өндөр VI.22-нд ямар байхыг бодож ол. (4 оноо)

A. 18.5⁰ B. 90⁰ C. 65.5⁰ D. 70.5⁰ E. 42⁰

2.4. 1600 м урттай голын эх авсан газар нь д.т.д 1800 м, цутгаж буй нуурын эрэг д.т.д. 850 м байв. Голын уналыг бодож ол. (4 оноо)

A. 2650 м B. 950 м C. 2550 м D. 200 м E. 20 м

ХУВИЛБАР В

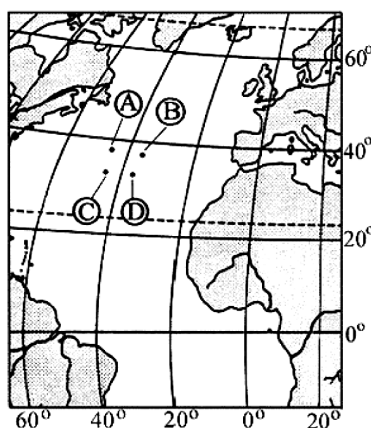
НЭГДҮГЭЭР ХЭСЭГ

1. Номхон далайн ай савд багтах голыг нэрлэ. (1 оноо)

A. Миссисипи B. Инд C. Шар мөрөн
D. Енисей E. Колорадо

2. Дараах цэгүүдийн аль нь х.ө 38⁰ б.у 46⁰-д оршиж байна вэ? (1 оноо)

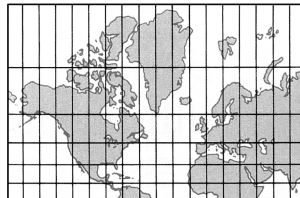
A. А цэг
B. В цэг
C. Д цэг
D. С цэг
E. В ба С цэг



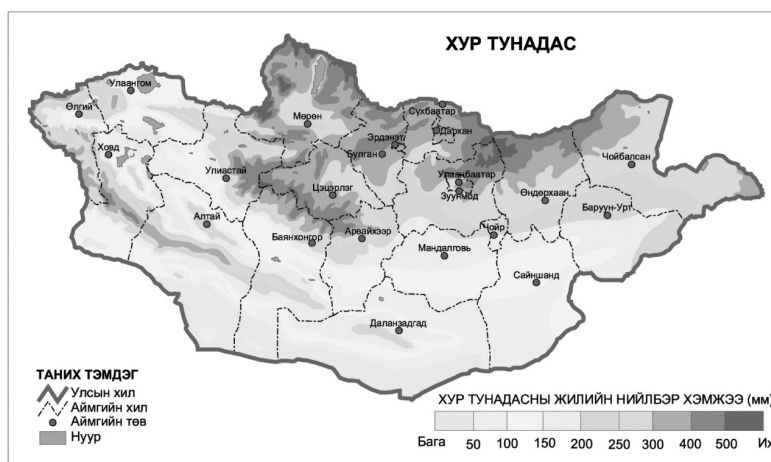
Боловсролын Үнэлгээний Төв

3. Дараах нууруудын аль нь хамгийн том талбайтай вэ? (1 оноо)
 А. Байгаль В. Танганьика С. Каспий D. Увс E. Эйр
4. Сэрүүн бүслүүрт оршдог цөлийн нэрийг тэмдэглэ. (1 оноо)
 А. Атакам В. Сахел С. Ливи D. Такламакан E. Намиб
5. Дараах уулсын аль нь Хангайн нурууны салбар вэ? (1 оноо)
 А. Богд уул В. Хархираа Түргэний уул C. Тарвагатайн нуруу
 D. Хөх Сэрхийн нуруу E. Агас Богд
6. Дараах зургийн тусгагийг нэрлэнэ үү. (1 оноо)

- А. Робинсоны тусгаг
 В. Меркаторын тусгаг
 С. Туйлын азимутын тусгаг
 D. Конусын тусгаг
 E. Гүүдын тусгаг

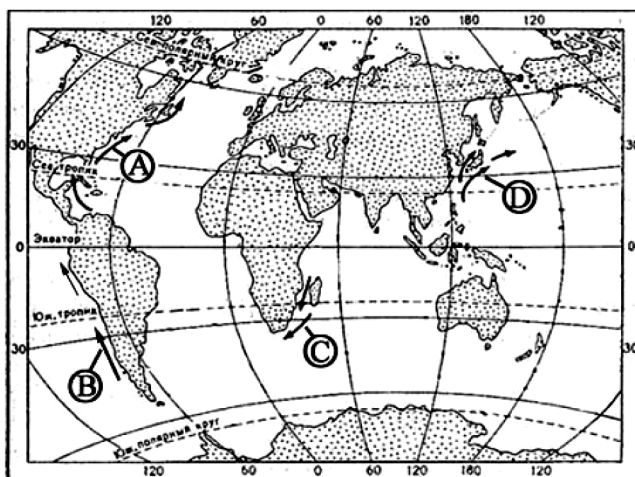


7. Монгол орны хур тунадасны хуваарилалтын зурагт дүрслэлийн ямар аргыг хэрэглэсэн вэ? (1 оноо)
 А. Өнгөт дэвсгэрийн арга
 В. Хөдөлгөөнт шугамын арга
 С. Тэмдгийн арга
 D. Картодиаграммын арга
 E. Ижил шугамын



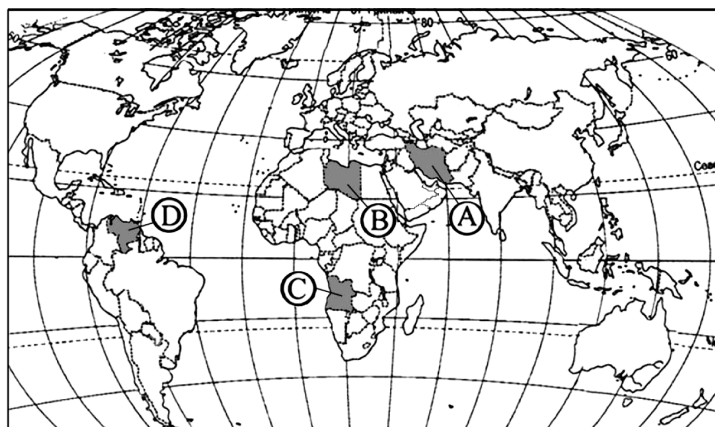
8. Дараах оргилуудын алинд нь мөнх цас тогтдоггүй вэ? (1 оноо)
 А. Цамбагарав В. Отгонтэнгэр C. Асралтхайрхан
 D. Түргэн уул E. Мөнххайрхан
9. Дээд хил орчимдоо агаарын температур -60°C хүрдэг хийн мандлын давхаргыг нэрлэнэ үү. (1 оноо)
 А. Экзосфер В. Тропосфер C. Термосфер
 D. Стратосфер E. Мезосфер
10. 10°C -аас дээших температурын нийлбэр манай орны аль хэсэгт хамгийн их вэ? (1 оноо)
 А. Нутгийн баруун хэсгээр В. Ойт хээрийн бүсэд
 С. Говийн бүсэд D. Орхон Сэлэнгийн сав газраар
 E. Хангайн салбар уулсаар
11. Агуй ямар чулуулаг бүхий газар үүсэх вэ? (1 оноо)
 А. Хүрмэн чулуу В. Шохойн чулуу C. Хүлэр
 D. Талст занар E. Төмрийн хүдэр
12. Геологийн цаг тооллын нэгж нь галав юм. Дараах галавуудаас аль нь эртнийх вэ? (1 оноо)
 А. Цэрд В. Юра C. Кембр
 D. Ордовик E. Триас
13. Өвслөг ургамал элбэг тархсан бүс аль нь вэ? (1 оноо)
 А. Өндөр уулын бүс В. Экваторын мөнх ногоон ойн бүс
 С. Тундрын бүс D. Цөлийн бүс
 E. Хээрийн бүс
14. Дэлхийн гурван гол шашны нэг нь лал юм. Энэ шашин өргөн дэлгэрсэн улс орон аль нь бэ? (1 оноо)
 А. Герман, АНУ В. Австрали, ОХУ C. Турк, Пакистан
 D. Энэтхэг, Лаос E. Тайланд, Хятад
15. Далайн урсгалын чиглэлийг газрын зураг дээр хөдөлгөөнт шугамын аргаар үзүүлдэг. Гольфстримын урсгалыг ямар үсгээр тэмдэглэсэн байна вэ? (1 оноо)

- A. А үсгээр
- B. В үсгээр
- C. D үсгээр
- D. C үсгээр
- E. B ба C үсгээр



16. Газрын давхаргын 3/4-ийг дангаараа эзлэх 2 элемент аль нь вэ? (1 оноо)
- | | | |
|-------------------------|-----------------|-----------------------|
| A. Хөнгөн цагаан, кальц | B. Магни, натри | C. Төмөр, хүчилтөрөгч |
| D. Хүчилтөрөгч, цахиур | E. Кали, цахиур | |
17. Тэрхийн цагаан, Хорго, Шарга зэрэг нуурууд ямар гарал үүсэлтэй вэ? (1 оноо)
- | | | |
|----------------|-------------|---------------|
| A. Мөсөн голын | B. Тектоник | C. Галт уулын |
| D. Карстын | E. Салхины | |
18. Хойд туйл дээр нар мандахгүй байх хоногийн хамгийн урт үргэлжлэх хугацаа аль нь вэ? (1 оноо)
- | | | |
|-------------------|-------------------------|---------------|
| A. Жилд нэг хоног | B. Жилд нэг долоо хоног | C. Жилд 6 сар |
| D. Бүтэн жил | E. Жилд 3 сар | |
19. Дэлхий дээр хүн ам сийрэг оршин суудаг 3 районд аль нь орох вэ? (2 оноо)
- | | |
|---------------------------|-------------------------------|
| A. Баруун Европ | B. Зүүн өмнөд Ази |
| C. Африкийн хойд хэсэг | D. Инд, Гангийн нам дор газар |
| E. АНУ-ын зүүн хойд хэсэг | |
20. Дэлхийн дулааны сэрүүн бүслүүр туйл талаасаа ямар изотермээр зааглагдах вэ? (2 оноо)
- | | |
|--|--|
| A. Жилийн -5°C -ийн | B. Жилийн 0°C -ийн |
| C. Хамгийн дулаан сарын $+10^{\circ}\text{C}$ -ийн | D. Хамгийн хүйтэн сарын 0°C -ийн |
| E. Хамгийн хүйтэн -10°C -ийн | |
21. Дараах зураг дээр А, В үсгээр тэмдэглэсэн хоёр улс аль нь вэ? (2 оноо)

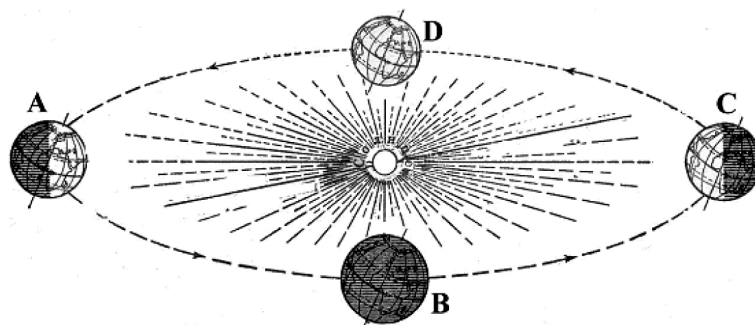
- A. А - Саудын Араб, В - Алжир
- B. А - Пакистан, В - Египет
- C. А - Казахстан, В - Марокко
- D. А - Ангол, В - Сомали
- E. А - Иран, В - Ливи



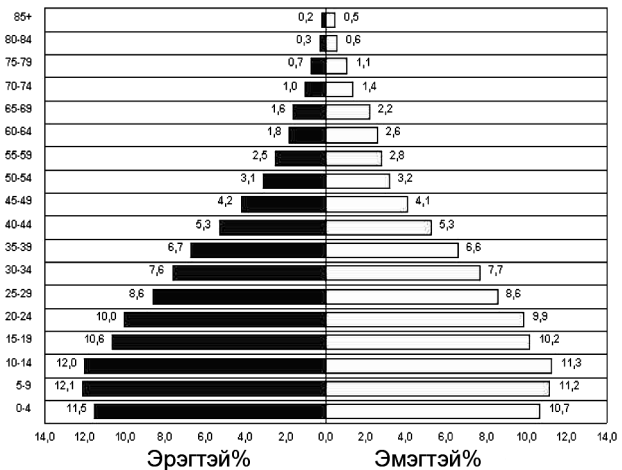
22. Ямар үед ууршилт их явагдах боломжтой вэ? (2 оноо)
- | | |
|--|----------------------------|
| A. Харьцангуй чийг бага үед | B. Үнэмлэхүй чийг бага үед |
| C. Агаарын температур шүүдэр цэгтээ хүрсэн үед | D. Салхи ихтэй үед |
| E. Агаар их халуун үед | |
23. Өвлийн улиралд цасан шуурга болох нь юутай холбоотой вэ? (2 оноо)
- | |
|--|
| A. Агаарын даралт ихдэн антициклон үүссэн |
| B. Агаарын даралт багасан циклон үүссэн |
| C. Агаарын уруудах хөдөлгөөн эрчимтэй болсон |
| D. Туйлын даралт ихтэй агаар нэвтрэн орж ирсэн |
| E. Агаар чийгээр бүрэн ханасан |

24. “Хүний хөгжлийн индекс” (ХХИ) нь улс орны хөгжлийн түвшинг илэрхийлдэг үзүүлэлт юм. Дараах улсуудаас ХХИ-ээр дэлхийд эхний 10-д багтах 3 орон аль нь вэ? (2 оноо)
 А. Швейцар, Норвеги, Австрали
 В. Бразил, Мексик, Саудын Араб
 С. Энэтхэг, Малайз, Казахстан
 D. Алжир, Хятад, Индонез
 E. Тайланд, Аргентин, Венесуэл
25. Баруун зүгийн салхи хаанаас хаашаа чиглэн үүсэх вэ? (2 оноо)
 А. Тропикоос сэрүүн өргөрөг рүү
 В. Экватораас тропик руу
 С. Тропикоос экватор руу
 D. Сэрүүн өргөргөөс тропик руу
 E. Туйлаас сэрүүн өргөрөг рүү
26. Ховд голын ихэнх хэсэг нь ямар хоёр аймгийн нутгаар дайрч урсдаг вэ? (2 оноо)
 А. Хэнтий, Дорнод
 В. Төв, Булган
 С. Өвөрхангай, Дундговь
 D. Сүхбаатар, Хэнтий
 E. Баян-Өлгий, Ховд
27. Газар хөдлөлт үе үе тохиолдох магадлал ихтэй бүс нутаг аль нь вэ? (2 оноо)
 А. Сибирь
 В. Өмнөд Америкийн баруун эрэг
 С. Хойд Америкийн зүүн эрэг
 D. Баруун Африк
 E. Хойд Европ
28. Дэлхийн дотоод хүчний гаралтай рельефийн хэлбэрийг нэрлэнэ үү? (2 оноо)
 А. Манхан элс
 В. Голын татам
 С. Дэл хад
 D. Мөстлөгийн хунх
 E. Ганга
29. Байрзүйн зургийн хуудас нь уртраг ба өргөргийн шугамаар зааглагдана. Нэг хуудсанд нь уртрагийн дагуу 4° , өргөргийн дагуу 6° газар нутаг дүрслэгддэг байрзүйн зургийн масштаб хэд вэ? (2 оноо)
 А. 1:100 000
 В. 1:10 000
 С. 1:1000 000
 D. 1:200 000
 E. 1:500 000
30. Дараах гол мөрд хаанаас эх авах вэ? Зөв харгалзуулан сонгоно уу. (2 оноо)
 1. Ховд
 2. Дэлгэр мөрөн
 3. Туул
 4. Эгийн гол
 5. Завхан
 а. Хэнтийн нуруу
 б. Хөвсгөл нуур
 с. Монгол Алтай
 d. Хангайн нуруу
 e. Улаантайга
 А. 1в, 2d, 3е, 4а, 5b
 В. 1а, 2b, 3d, 4с, 5е
 C. 1е, 2а, 3d, 4b, 5b
31. Агаарын даралт буурахад цаг агаарын байдал яаж өөрчлөгдөх вэ? (2 оноо)
 А. Үүлэрхэг бороотой байсан бол арилж тэнгэр цэлмэнэ
 В. Үүл үүсэж, тунадас орно
 С. Салхи гарч хүйтэрнэ
 D. Цаг агаарын байдал өөрчлөгдөхгүй хэвээр байна
 E. Нарлаг болно
32. Агаар мандалд ялгаруулж буй нүүрсхүчлийн хийн (CO_2) зонхилох хувь ногддог орон аль нь вэ? (2 оноо)
 А. Энэтхэг
 В. АНУ
 С. ОХУ
 D. Саудын Араб
 E. Монгол
33. Байгалийн нөхцөлөөс шалтгаалахгүйгээр овор ихтэй ачааг хол зайд тээвэрлэхэд тохиромжтой тээврийн төрөл аль нь вэ? (2 оноо)
 А. Усан замын тээвэр
 В. Төмөр замын
 С. Дамжуулах хоолойн
 D. Автозамын
 E. Агаарын тээвэр
34. Дэлхий “С” байрлалд орших үед дор дурдсан өргөргүүдийн алинд нь үд дундын нарны өндөр хамгийн бага байх вэ? (2 оноо)

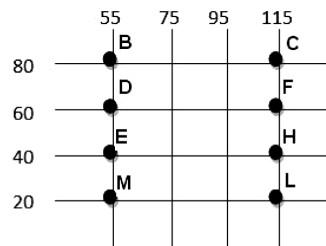
- А. Х.Ө 40°
 В. Х.Ө 30°
 С. Ө.Ө 23.5°
 D. Ө.Ө 30°
 E. Экватор дээр



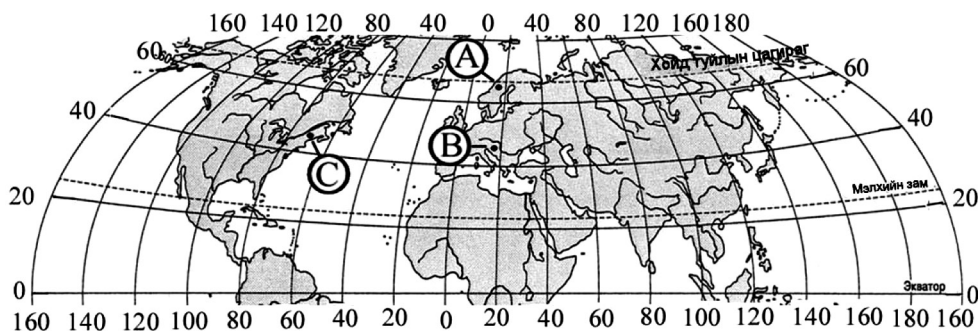
35. Тропик орчмын уур амьсгалд тохиромжтой, Газар дундын тэнгис орчмын орнуудын экспортын гол ургамал ... (2 оноо)
 А. Цагаан будаа, овъёос
 В. Арвай, наранцэцэг
 С. Улаан буудай, сахарын манжин
 D. Чидун жимс
 E. Цай, кофе
36. Дараах орнуудын алинд нь хүн амын дундаж наслалт хамгийн доогуур байх вэ? (2 оноо)
 А. Кени
 В. Япон
 С. Изриал
 D. Швейцар
 E. Исланд
37. Хүн амын нас хүйсний суваргын хэлбэр нь тухайн улс орны хөгжлийг илэрхийлдэг нэг үзүүлэлт болдог. Дараах суварга ямар бүс нутгийн хүн амын байдлыг үзүүлсэн байж болох вэ? (2 оноо)
 А. Баруун Африк
 В. Хойд Америк
 С. Баруун Европ
 D. Хөгжингүй орнууд
 E. Хойд Европ



38. Аливаа цэгийн газарзүйн солбицлыг орших уртраг ба өргөргөөр нь тодорхойлдог. Дараах солбицолд орших цэгүүдээс өргөргийн дагуу хамгийн хол орших цэгүүдийг олно уу. (2 оноо)
 А. BC
 B. DE
 C. EH
 D. ML
 E. CF



39. Дэлхийн хойд хагасд орших А, В, С үсгээр тэмдэглэгдсэн цэгүүдийн алинд нь 6 дугаар сарын 20-нд нар хамгийн эрт (Гринвичийн цагаар) мандах вэ? (3 оноо)

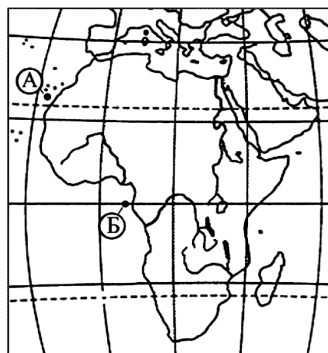


40. Дархан цаазат газрууд аль нь вэ? (3 оноо)
 А. А цэг дээр
 В. В цэг дээр
 С. С цэг дээр
 D. А ба В цэг дээр зэрэг
 E. С ба В цэг дээр зэрэг мандана
41. Дархан цаазат газрууд аль нь вэ? (3 оноо)
 А. Хустайн нуруу, Хүйсийн найман нуур, Булган уул
 B. Ээж хайрхан уул, Шарга манхан, Шилийн Богд
 C. Увс нуурын ай сав, Монгол дагуур, Богд хан уул
 D. Бурхан буудай уул, Нагалхаан уул, Батхаан уул
 E. Горхи-Тэрэлж, Хар-Ус нуур, Улаан тайга

Боловсролын Үнэлгээний Төв

41. Атлантын далайн гадаргын усны дундаж давсжилт нь бусад далайтай харьцуулахад илүү их байдаг. Гэвч Африкийн эрэг дээр орших Б цэг дээр А цэгийг бодвол давсжилт бага байдгийн гол 2 шалтгаан юу вэ? (3 оноо)

- А. Тунадас бага, ууршилт их
 В. Далайн хүйтэн урсгал ба газарзүйн байрлал
 С. Голын усаар цэнгэгждэг, агаарын тунадас их
 Д. Агаарын даралт их ба цөлийн нөлөө
 Е. Гадарга ба ургамлын бүрхэвч



42. Манай орны хайлуур жоншны гол орд газруудыг нэрлэ. (3 оноо)
 А. Ерөө, Түнхэл, Хялганат
 В. Таван толгой, Адуун чулуун, Хар Тарвагагай
 С. Хажуу-Улаан, Бор-Өндөр, Хар-Айраг
 Д. Асгат, Хараат
 Е. Сүхбаатар, Эрдэнэт

43. Дэлхий нарнаас хэр зэрэг хол орших вэ? (3 оноо)
 А. Сар дэлхийн хоорондох зайнаас 390 дахин хол
 В. Гэрэл 1 цаг туулах зайд
 С. Гэрэл 1.8 минут туулах зайд
 Д. Буд гаригийн алслагдсан зайнаас 2 дахин хол зайд
 Е. 1.2 одон орны нэгж зайд

44. Газрын тос экспортлогч орнуудын холбоо буюу ОПЕК-ийн гишүүн орон аль нь вэ? (3 оноо)
 А. Нигери, Ливи, Ангол
 В. ОХУ, Грек, ОХУ
 С. Австрали, АНУ, Англи
 Д. Бразил, Энэтхэг, БНХАУ
 Е. Аргентин, БНХАУ, АНУ

45. Байгалийн нөөц тус бүрийг ямар төрөлд хамаарагдахыг олж зөв харгалзуулан сонгоно уу. (3 оноо)

Байгалийн нөөц

Байгалийн нөөцийн төрөл

- А. Салхины эрчим хүч
 В. Зэсийн хүдэр
 С. Ойн нөөц
 Д. Гянт болд
 Е. Далайн усны түрэлт

1. Шавхагддаг, дахин сэргээгддэг
 2. Шавхагддаг, дахин сэргээгддэггүй
 3. Шавхагддаггүй

- А. А1, В2, С2, D1, E1, В. А2, В3, С1, D1, E2, С. А1, В3, С3, D2, E2,
 Д. А2, В1, С2, D3, E1, Е. А3, В2, С1, D2, E3,

46. Улсын нэр ба нийслэл хот, орших бүс нутгийг зөв харгалзуулан сонго. (3 оноо)

Улсын нэр	Нийслэл хотын нэр	Орших бүс нутаг
1. Балба	А. Лусака	а. Төв Ази
2. Замби	Б. Хельсинк	б. Өмнөд Ази
3. Финлянд	В. Дакар	в. Латин Америк
4. Сенегал	Г. Сукре	г. Хойд Европ
5. Боливи	Д. Катманду	д. Хойд Африк

- А. 1-Б-в, 2-Г-г, 3-Д-а, 4-Б-д, 5-А-в В. 1-Д-а, 2-А-б, 3-Б-г, 4-В-д, 5-Г-в
 С. 1-В-б, 2-Б-г, 3-Г-а, 4-Г-д, 5-А-в Д. 1-В-б, 2-Г-г, 3-Д-а, 4-Б-д, 5-А-в
 Е. 1-А-д, 2-Д-г, 3-Г-а, 4-Б-д, 5-В-в

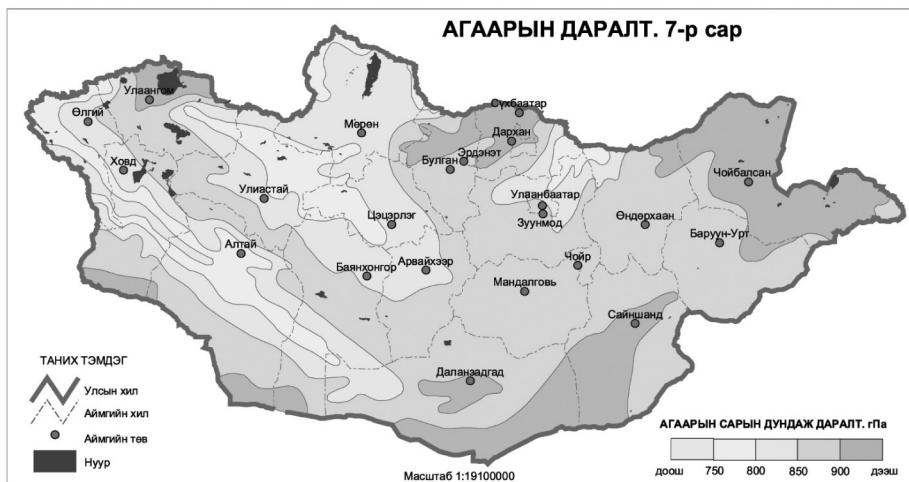
ХОЁРДУГААР ХЭСЭГ

Анхааруулга

Хоёрдугаар хэсгийн бодлогын хариуг хариултын хуудасны хоёрдугаар хэсэгт доорх хэлбэрээр бөглөхийг анхаарна уу. Хэрэв бодлогын хариу 68 гарсан гэж үзвэл а-6, в-8 гэж бөглөнө.

- 2.1. Тариалангийн талбай 1: 10 000 масштабтай зураг дээр 1,5 см х 1,2 см хэмжээтэй тэгш өнцөгт байдлаар дүрслэгдсэн байв. Жинхэнэ талбай нь хэд вэ? (4 оноо)

7. Монгол орны агаарын даралтын хуваарилалтын зурагт дүрслэлийн ямар аргыг хэрэглэсэн байна вэ? (1 оноо)



- A. Ижил шугамын арга
- B. Өнгөт дэвсгэрийн арга
- C. Хөдөлгөөнт шугамын арга
- D. Тэмдгийн арга
- E. Картодиаграммын арга

8. Дараах оргилуудын алинд нь мөнх цастай вэ? (1 оноо)

- A. Цэцээ гүн
- B. Гурвансайхан
- C. Асралтхайрхан
- D. Суварга хайрхан
- E. Хархираа

9. Өндөр рүүгээ буурч байсан агаарын температур аажим өссөөр 0°C-10°C хүрдэг хийн мандлын давхаргыг нэрлэнэ үү? (1 оноо)

- A. Экзосфер
- B. Тропосфер
- C. Термосфер
- D. Стратосфер
- E. Мезосфер

10. Манай орны ямар хэсэгт газар тариаланд хамгийн тохиромжтой бүсэд тооцогдох бэ? (1 оноо)

- A. Дорнодын тал
- B. Говийн бүс
- C. Хээрийн бүс
- D. Их нууруудын хотгор
- E. Орхон Сэлэнгийн сав газар

11. Чулуун мандалд зонхилдог 8 элементийн эзлэх нийт хувь хэд вэ? (1 оноо)

- A. 25 хувь
- B. 50 хувь
- C. 75 хувь
- D. 99 хувь
- E. 40 хувь

12. Геологийн цаг тооллын нэгж нь галав юм. Чулуун нүүрсний галав аль эринийх вэ? (1 оноо)

- A. Протерозойн
- B. Палезойн
- C. Мезозойн
- D. Кайнозойн
- E. Архейн

13. Өвлийн улиралд эх газраас далай руу салхилдаг зонхилох салхи аль нь вэ? (1 оноо)

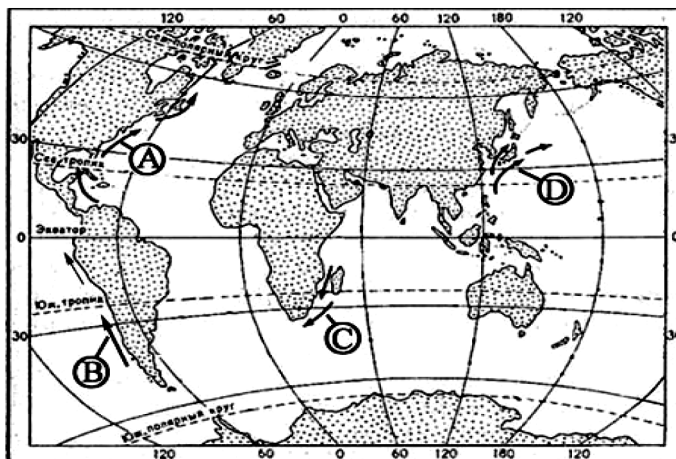
- A. Баруун зүгийн салхи
- B. Пассат
- C. Муссон
- D. Фён
- E. Зүүн зүгийн салхи

14. Дэлхийн гурван гол шашны нэг нь Христос юм. Энэ шашин дэлхийн аль бүс өргөн дэлгэрсэн вэ? (1 оноо)

- A. Зүүн Ази
- B. Хойд Америк ба Европ
- C. Ойрх Дорнод
- D. Зүүн өмнөд Ази
- E. Энэтхэг, Бангладеш

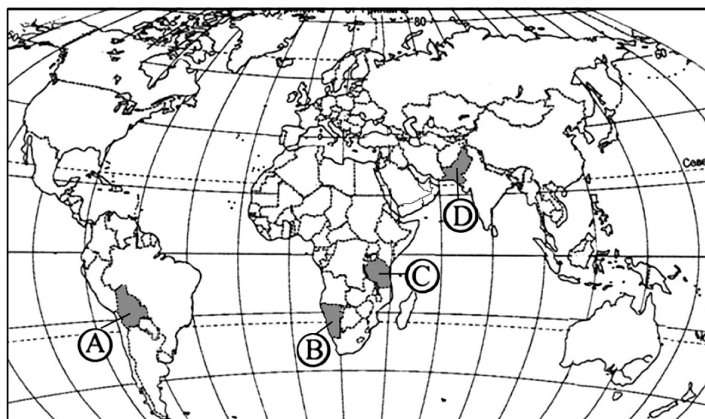
15. Далайн урсгалын чиглэлийг газрын зураг дээр хөдөлгөөнт шугамын аргаар үзүүлдэг. Курсиогийн урсгалыг ямар үсгээр тэмдэглэсэн байна вэ? (1 оноо)

- A. A үсгээр
- B. B үсгээр
- C. D үсгээр
- D. C үсгээр
- E. B ба C үсгээр



16. Чулуулгийг гарал үүслээр нь тунамал, хувирмал, магмын хэмээн ангилдаг. Тунамал чулуулагт аль нь орох вэ? (1 оноо)
 А. Гантиг В. Боржин С. Талст занар
 D. Элсэн чулуу E. Хүрмэн чулуу
17. Монгол Алтайд орших Хотон, Толбо, Даян зэрэг нуурууд ямар гарал үүсэлтэй вэ? (1 оноо)
 А. Мөстлөгийн В. Тектоник С. Галт уулын
 D. Элэгдлийн E. Салхины
18. Өмнөд туйлын цагираг дээр нар тэнгэрийн хаяанаас дээш гарахгүй байх хугацаа аль нь вэ? (1 оноо)
 А. Жилд нэг хоног В. Жилд нэг долоо хоног С. Жилд нэг сар
 D. Бүтэн жил E. Жилд 2 хоног
19. Дэлхийн том хотуудын бөөгнөрөл бүхий районд аль нь орох вэ? (2 оноо)
 А. АНУ-ын зүүн хойд хэсэг В. Австралийн баруун эрэг орчим С. Африк тив
 D. Төв Ази E. Төв Америк
20. Дэлхийн дулааны мөнх хүйтний бүслүүр экватор талаасаа ямар изотермээр зааглагдах вэ? (2 оноо)
 А. Жилийн -5°C -ийн В. Жилийн 0°C -ийн
 С. Хамгийн дулаан сарын 0°C -ийн D. Хамгийн хүйтэн сарын 0°C -ийн
 E. Хамгийн хүйтэн -10°C -ийн
21. Дараах зураг дээр C D үсгээр тэмдэглэсэн хоёр улс аль нь вэ? (2 оноо)

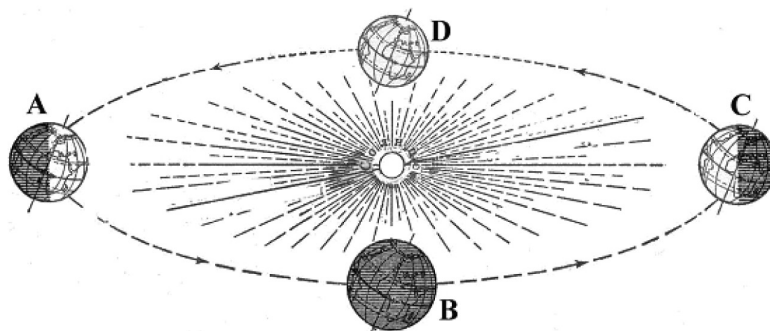
- А. С - Саудын Араб, D - Алжир
 В. С - Пакистан, D - Египет
 С. С - Танзани, D - Пакистан
 D. С - Боливи, D - Сомали
 E. С - Иран, D - Ливи



22. Агаарын температур буурсаар чийг агуулах чадваргүй болох үеийг юу гэж нэрлэх вэ? (2 оноо)
 А. Шүүдэр цэг В. Ууршилтын түвшин С. Хөлдөх температур
 D. Чийгээр ханах E. Дутмаг чийг
23. Циклон үүсэхэд цаг агаарын байдал яаж өөрчлөгдөх вэ? (2 оноо)
 А. Үүлэрхэг бороотой байсан бол арилж тэнгэр цэлмэнэ
 В. Үүл үүсэж, тунадас орно
 С. Салхи тогтож, дулаарна
 D. Цаг агаарын байдал өөрчлөгдөхгүй хэвээр байна
 E. Агаарын уруудах хөдөлгөөн эрчимтэй болно
24. “Хүний хөгжлийн индекс” (ХХИ) нь улс орны хөгжлийн түвшинг илэрхийлдэг үзүүлэлт юм. Дараах улсуудаас ХХИ-ээр дэлхийд эхний 10-д багтах 3 орон аль нь вэ? (2 оноо)
 А. Тайланд, Аргентин, Венесуэл В. Нидерланд, Исланд, Япон
 С. Хятад, Бразил, Саудын Араб D. Мексик, Энэтхэг, Малайз
 E. ОХУ, Алжир, Индонез
25. Дэлхийн өмнөд хагасд өдөр нь шөнөөсөө урт байх хугацаа аль нь вэ? (2 оноо)
 А. III.22-наас IX.23-ны хооронд В. VI.22-наас IX.23-ны хооронд
 С. IX.23-наас III.21-ны хооронд D. XII.22-наас IX.23-ны хооронд
 E. III.22-ноос VI.22 хүртэл
26. Идэр голын ихэнх хэсэг нь ямар хоёр аймгийн нутгаар дайрч урсдаг вэ? (2 оноо)
 А. Төв, Булган В. Өвөрхангай, Архангай
 С. Хэнтий, Дорнод D. Завхан, Хөвсгөл
 E. Сүхбаатар, Хэнтий
27. Газар хөдлөлт тохиолдох магадлал багатай бүс нутаг аль нь вэ? (2 оноо)
 А. Баруун Сибирь В. Өмнөд Америкийн баруун эрэг
 С. Газар дундын тэнгисийн бүс D. Азийн зүүн эрэг орчим
 E. Атлантын далайн ёроолын төв хэсэг

28. Дэлхийн гадаад хүчний гаралтай рельефийн хэлбэрийг нэрлэнэ үү. (2 оноо)
 А. Дорнод Африкийн Рифтийн хөндий
 В. Голын татам
 С. Галт уулын өрх
 D. Атираат уулс
 E. Зөрөгт уулс
29. Байрзүйн зургийн хуудас нь уртраг ба өргөргийн шугамаар зааглагдана. 1:100 000 масштабтай байрзүйн зургийн нэг хуудсанд уртрагийн дагуу хэдэн градусын газар багтах вэ? (2 оноо)
 А. 6° В. 4° С. 1° D. 20' E. 30'
30. Үндсэн ба цутгал голуудыг зөв харгалзуулан сонгоно уу. (Үндсэн голыг тоогоор, тэдгээрийн цутгалыг үсгээр тэмдэглэв) (2 оноо)
 1. Ховд а. Эгийн гол
 2. Тэс b. Буянт гол
 3. Онон c. Хачиг гол
 4. Сэлэнгэ d. Мөрөн гол
 5. Хэрлэн e. Хурх гол
 А. 1c, 2d, 3a, 4e, 5b В. 1a, 2b, 3d, 4c, 5e С. 1в, 2с, 3е, 4а, 5d
 D. 1e, 2a, 3c, 4b, 5a E. 1c, 2a, 3b, 4d, 5b
31. Экватор орчмын агаарын температур туйл орчмынхоос их байдгийн учир нь юу вэ? (2 оноо)
 А. Агаарын даралт ямагт бага учир
 В. Туйлын агаар цас мөснөөс болж хүйтэн байдаг
 С. Экваторын агаарт усны уур ба CO₂ ихтэй учир цацрагийг их шингээнэ
 D. Экваторын ойролцоох далай туйл орчмынхоос дулаан
 E. Нарны гэрэл туйлыг бодвол экватор дээр эгц тусдаг
32. Байгаль орчинд хамгийн сөрөг нөлөө үзүүлдэг үйл явц аль нь вэ? (2 оноо)
 А. Ойн зурвас байгуулах
 В. Намагтай газрыг хатаах
 С. Тал газар цас тогтоох хаалт хийх
 D. Уулын хажууг дэнжлэх
 E. Голын татмыг ойжуулах
33. Агаарын тээврийн хамгийн гол давуу тал юу вэ? (2 оноо)
 А. Ачаа эргэлтэд эзлэх хувь хамгийн өндөр
 В. Алс хол зайд ачаа тээвэрлэхэд хямд
 С. Улирал, цаг агаараас хамаарахгүй
 D. Зорчигчдыг хурдан хугацаанд шуурхай хүргэдэг
 E. Богино зайд тээвэр хийхэд ашигтай
34. Дэлхий “А” байрлалд орших үед дор дурдсан өргөргүүдийн алинд нь үд дундын нарны өндөр хамгийн их байх вэ? (2 оноо)

- А. Х.ө 30°
 В. Х.ө. 05°
 С. Экватор
 D. Ө.ө.10°
 E. Ө.ө.30°



35. Хөгжиж буй орнуудын гадаад худалдааны гол шинж: (2 оноо)
 А. Түүхий эдээ гадаадад гаргаж бэлэн бүтээгдэхүүн импортлоно
 В. Бэлэн бүтээгдэхүүн гаргаж, түүхий эдээ импортлоно
 С. Түүхий эд болон бэлэн бүтээгдэхүүн импортлоно
 D. Бэлэн бүтээгдэхүүн гадаадад гаргана
 E. Аж үйлдвэрийн бүтээгдэхүүн экспортлоно
36. Дараах орнуудын алинд нь хөдөө аж ахуйн салбарт ажиллагсдын хувь өндөр байх вэ? (2 оноо)
 А. Герман В. Франц С. Камбож
 D. Канад E. Бельги
37. Хүн амын нас хүйсний суваргын хэлбэр нь тухайн улс орны хөгжлийг илэрхийлдэг нэг үзүүлэлт болдог. Дараах суварга ямар бүс нутгийн хүн амын байдлыг үзүүлсэн байж болох вэ? (2 оноо)

2010 оны Газарзүйн хичээлийн даалгаврын түлхүүр

Нэгдүгээр хэсэг			
№	Хувилбар А	Хувилбар В	Хувилбар С
1	В	С	В
2	D	A	В
3	В	С	В
4	E	D	С
5	D	С	С
6	E	В	A
7	D	E	A
8	В	С	E
9	E	В	D
10	A	С	E
11	В	В	D
12	С	С	В
13	С	E	С
14	A	С	В
15	В	A	С
16	В	D	D
17	В	С	A
18	A	С	A
19	A	С	A
20	С	С	С
21	С	E	С
22	С	A	A
23	С	В	В
24	E	A	В
25	A	A	С
26	С	E	D
27	A	В	A
28	A	С	В
29	В	С	D
30	A	D	С
31	С	В	E
32	В	В	В
33	В	В	D
34	E	A	A
35	E	D	A
36	С	A	С
37	С	A	С
38	A	D	D
39	В	A	С
40	A	С	D
41	D	С	D

Боловсролын Үнэлгээний Төв

№	Хувилбар А	Хувилбар В	Хувилбар С
42	A	C	C
43	A	A	C
44	B	A	E
45	D	E	A
46	E	B	C
Хоёрдугаар хэсэг хариу			
2.1	D	A	A
2.2	D	D	E
2.3	C	A	E
2.4	B	C	A